



Prefeitura de Jacareí  
Secretaria de Educação

## EDUCAÇÃO DE JOVENS E ADULTOS

ATIVIDADES/EJA – ABRIL/2021

2ª ETAPA



NOME: \_\_\_\_\_

DATA: \_\_\_\_ / \_\_\_\_ / \_\_\_\_



Prefeitura de Jacareí  
Secretaria de Educação

## GÊNERO TEXTUAL: CRÔNICAS


# Jacareí

# CRÔNICAS

da cidade



36 cronistas jacareenses



## **NAMORADOS E CANTEIROS DE ROSAS.**

**WALCERLY CORRÊA DE OLIVEIRA**

### **GOSTOSOS TEMPOS DE CASAIS NAMORANDO DE MÃOS DADAS E CORAÇÕES APAIXONADOS**

PELA SEGUNDA METADE DO SÉCULO PASSADO, JACAREÍ COMO TODA CIDADE INTERIORANA FOI PALCO DE MEMORÁVEIS PAIXÕES, NESSA ÉPOCA EM QUE OS NAMOROS AINDA ERAM TÍMIDOS E AMADURECIAM LENTAMENTE A CADA ENCONTRO ROMÂNTICO.

O FLERTE COMEÇAVA NA CALÇADA DO BAR BRASIL E DEMAIS ESPAÇOS DA PRAÇA CONDE FRONTIN DELIMITADOS PELA LINHA DO TREM. ALI, MUITOS ENCONTROS FORAM MARCADOS E NAMOROS TIVERAM INÍCIO COM O FOOTING, QUE TINHA POR INÍCIO A SONORA FONTE LUMINOSA DE ÁGUAS COLORIDAS E IA ATÉ A GALERIA DOS PRESENTES – POUCOS METROS ADIANTE -, NA PRAÇA DO ROSÁRIO.

GOSTOSOS TEMPO MOÇAS E MOÇOS NAMORANDO DE MÃOS DADAS E CORAÇÕES APAIXONADOS. CULMINAVA QUANDO JOVENS CASAIS DE ENTÃO ERAM FORMADOS E SENTAVAM-SE NOS BANCOS, DESSA PRAÇA, CERCADOS DE CANTEIROS DE ROSA ALI EXISTENTES.

O TRADICIONAL DIA DOS NAMORADOS FOI ADOTADO NO PAÍS EM 1948, QUANDO UM PUBLICITÁRIO BRASILEIRO, COM A INTENÇÃO DE AUMENTAR



AS VENDAS DE UM CONHECIDO MAGAZINE, ESTRATEGICAMENTE LANÇOU A IDEIA NO MÊS DE JUNHO. A DATA FOI CONVENCIONADA HABILMENTE NO DIA 12, VÉSPERA COMEMORATIVA DE SANTO ANTÔNIO, TRADICIONAL CASAMENTEIRO CUJA FESTA NÃO FOGE AO TEMA.

NA COMEMORAÇÃO PESSOAS JUNTAM-SE COM ALEGRIA E DANÇAM AOS PARES EM CLIMA ACONCHEGANTE. O TRADICIONAL “CASAMENTO CAIPIRA” É O PONTO ALTO DA FESTA. A ESCOLHA DO DIA NÃO PODERIA TER SIDO MAIS ACERTADO.

O MELHOR PRESENTE NO DIA DOS NAMORADOS ERA, NA VERDADE, A FIDELIDADE, O RESPEITO E O COMPROMISSO ESTABELECIDO REPRESENTADO PELA OFERTA DE UMA ROSA, PREFERENCIALMENTE ROUBADA DE UM DOS CANTEIROS DA PRAÇA, CUJO DESTINO ERA AMARELECER DENTRO DE UM LIVRO DE ESTIMAÇÃO.

MUITOS DOS PARES FORMADOS NAQUELES TEMPOS AINDA VIVEM E CELEBRAM O SEU AMOR. OUTROS RELEMBRAM SAUDOSOS OS COMPANHEIROS QUE PARTIRAM. ALGUNS CHORAM AMORES FINDADOS, HOJE APENAS LEMBRANÇA.

O DIA DOS NAMORADOS TORNOU-SE UM SUCESSO COMERCIAL E FOI ALÉM. É UMA DATA QUE ATENDE INTEGRALMENTE À INTENÇÃO INICIAL DE PRIORIZAR O COMPROMISSO COM O CONSUMO EM CONSONÂNCIA COM AS MANIFESTAÇÕES DE PUROS SENTIMENTOS DE AMOR VERDADEIRO.

QUEM SABE O TEMPO TRARÁ DE VOLTA UM DIA DOS NAMORADOS NO QUAL, ABENÇOADOS POR SANTO ANTÔNIO, VERDADEIROS AMANTES SE ENCONTREM E SE PROPONHAM CAMINHAR JUNTOS NA CONSTRUÇÃO DA FELICIDADE. QUEM DERA TAMBÉM TRAGA DE VOLTA NOSSAS LINDAS PRAÇAS COM SONORAS FONTES LUMINOSAS E JARDINS COM CANTEIROS DE ROSAS PARA SEREM APRECIADAS POR TODOS E ROUBADAS PELOS APAIXONADOS.



**ESTUDO DO TEXTO:**

**1- A CRÔNICA FALA SOBRE OS TEMPOS DE NAMORO DE ANTIGAMENTE, QUAIS SÃO AS LEMBRANÇAS DE SUA ÉPOCA DE NAMORO E PAQUERA NA JUVENTUDE?**

---

---

---

---

**2- QUAIS AS DIFERENÇAS QUE VOCÊ PERCEBE DOS TEMPOS DE NAMORO DE ANTIGAMENTE PARA OS DIAS ATUAIS?**

---

---

---

---

**3- PROCURE NO DICIONÁRIO AS PALAVRAS QUE APARECEM NO TEXTO:**

**A) INTERIORANA:**

---

---

**B) FLERTE:**

---

---

**C) CULMINAVA:**

---

---

**D) PUBLICITÁRIO:**

---

---



AGORA QUE VOCÊ CONHECE MAIS ESSAS PALAVRAS ESCOLHA UMA, E CRIE UMA FRASE:

---

---

4 - VOCÊ CONHECE A PRAÇA CONDE DE FRONTIN E SUA IMPORTÂNCIA NA HISTÓRIA DE JACAREÍ? ELA FICA LOCALIZADA NO CENTRO DA CIDADE:



[jacareitempoememoria.com.br](http://jacareitempoememoria.com.br)

- DESCREVA AS MUDANÇAS QUE OCORRERAM AO LONGO DO TEMPO COM A PAISAGEM DA PRAÇA:

---

---

---

---

5 - PONTOS TURÍSTICOS E PÚBLICOS SÃO LUGARES IMPORTANTES DE UMA CIDADE, QUE DEMONSTRAM A HISTÓRIA E AS MUDANÇAS OCORRIDAS AO LONGO DO TEMPO. ESCREVA OS PONTOS TURÍSTICOS E PÚBLICOS DE NOSSA CIDADE QUE VOCÊ CONHECE, CASO NÃO SAIBA, PESQUISE E ESCREVA:



---

---

---

---

---

6- VAMOS IMAGINAR QUE A IMAGEM ABAIXO REPRESENTA AS MEDIDAS DA PRAÇA:



- VOCÊ SABE O QUE ESSAS MEDIDAS SIGNIFICAM?

---

ELAS DEMONSTRAM QUE: A PRAÇA TERIA 12 METROS DE COMPRIMENTO E 6 METROS DE LARGURA.

7-CONSIDERANDO AS MEDIDAS ACIMA, RESOLVA AS SITUAÇÕES-PROBLEMA:

A) PARA SABER A MEDIDA TOTAL DA PRAÇA, SOME AS MEDIDAS DE TODOS OS LADOS:

RESPOSTA: \_\_\_\_\_



**B) CONSIDERANDO QUE O CANTEIRO DE ROSAS DA PRAÇA, CITADO NA CRÔNICA, TEM COMO MEDIDA TOTAL DE TAMANHO 12 METROS, **CALCULE A DIFERENÇA** ENTRE O TAMANHO DA PRAÇA E O TAMANHO DO CANTEIRO:**

RESPOSTA: \_\_\_\_\_

**8- SEGUNDO A CRONISTA O DIA DOS NAMORADOS FOI INTRODUZIDO NO BRASIL EM 1948**

**A) ESCREVA ESSE NÚMERO POR EXTENSO:**

\_\_\_\_\_  
\_\_\_\_\_

**B) ESSE NÚMERO É DECOMPOSTO EM  $1000+900+40+8$ . QUE NÚMERO É**

**ESTE:**

( ) 1498

( ) 1944

( ) 1948

( ) 1894





**9 - JACAREÍ TEM MAIS OU MENOS 463 QUILOMETROS DE EXTENSÃO. ESTE NÚMERO POSSUI QUANTAS CENTENAS:**

- 4
- 40
- 400
- 4000

**10 - A POPULAÇÃO DE JACAREÍ SEGUNDO O CENSO DO IBGE DE 2020 É DE DUZENTOS E TRINTA E CINCO MIL QUATROCENTOS E DEZESSEIS HABITANTES ONDE ESTÁ ESCRITO ESSE NÚMERO CORRETAMENTE:**

- 235.416
- 200.354.001.06
- 200.354.16
- 235.400106

**11 - A CRONISTA WALCERLY FOI ESCOLHIDA PARA APRESENTAR O LIVRO "CRÔNICAS DE JACAREÍ" EM FORTALEZA, ESSA VIAGEM DURARÁ 4 DIAS. QUANTAS HORAS DUROU ESSA VIAGEM? (1 DIA = 24 HORAS):**

- 96
- 24
- 48
- 36



OS TEXTOS A SEGUIR SÃO CHAMADOS DE NOTÍCIAS.

A NOTÍCIA É UM **FORMATO DE DIVULGAÇÃO DE UM ACONTECIMENTO POR MEIOS JORNALÍSTICOS**. É A MATÉRIA-PRIMA DO JORNALISMO, NORMALMENTE RECONHECIDA COMO ALGUM DADO OU EVENTO, SOCIALMENTE RELEVANTE QUE MERECE PUBLICAÇÃO EM UM MEIO DE COMUNICAÇÃO SOCIAL.

## **SATÉLITE AMAZÔNIA 1, PRIMEIRO TOTALMENTE FEITO NO BRASIL, É LANÇADO AO ESPAÇO**



O AMAZÔNIA 1, PRIMEIRO SATÉLITE COMPLETAMENTE BRASILEIRO, FOI LANÇADO AO ESPAÇO NA MADRUGADA DESTES DOMINGO (28/2). O LANÇAMENTO OCORREU ÀS 1H54, NO CENTRO DE LANÇAMENTO SRIHARIKOTA, NA ÍNDIA. O SATÉLITE BRASILEIRO FOI AO ESPAÇO JUNTAMENTE COM OS SATÉLITES SINDHU NETRA (ÍNDIA), NANOCONNECT-2 E SPACEBEE (12) (AMBOS DOS ESTADOS UNIDOS). CERCA DE 17 MINUTOS APÓS O LANÇAMENTO DO FOGUETE PSLV-C51, O SATÉLITE SE SEPAROU (ASSISTA AO VÍDEO MAIS ABAIXO) E FEZ SUAS PRIMEIRAS ATIVIDADES PREVISTAS, COMO A ABERTURA DO PAINEL SOLAR, A ESTABILIZAÇÃO DE SUA ORIENTAÇÃO EM RELAÇÃO À TERRA, A VERIFICAÇÃO DOS SISTEMAS E A COLOCAÇÃO DO MODO DE PRONTIDÃO.

EM VÍDEO GRAVADO E DIVULGADO APÓS O LANÇAMENTO, O DIRETOR DO INSTITUTO NACIONAL DE PESQUISAS ESPACIAIS (INPE), CLEZIO DE



NARDIN, DECLAROU QUE A PRÓXIMA ETAPA É INICIAR A FASE DE TESTES PARA VERIFICAR O SATÉLITE E AJUSTES EM SUA CÂMERA. O EQUIPAMENTO É O TERCEIRO A FORMAR O SISTEMA DETER E VAI AUXILIAR NA OBSERVAÇÃO E NO MONITORAMENTO DO DESMATAMENTO NA REGIÃO AMAZÔNICA. COM 4 METROS DE COMPRIMENTO E 640 KG, O AMAZÔNIA 1 VAI FICAR A 752 QUILOMETROS ACIMA DA SUPERFÍCIE DA TERRA EM UMA ÓRBITA ENTRE OS POLOS NORTE E SUL E VAI CAPTURAR IMAGENS EM ALTA RESOLUÇÃO. AS FOTOS COMEÇARÃO A SER TIRADAS CINCO DIAS APÓS O SATÉLITE SE ESTABILIZAR NA ÓRBITA.

O SATÉLITE FOI DESENVOLVIDO NO INPE, EM SÃO JOSÉ DOS CAMPOS, E LEVADO EM 22 DE DEZEMBRO PARA A ÍNDIA PARA SER LANÇADO. EMBARCARAM EM FEVEREIRO PARA ACOMPANHAR O ENVIO DO SATÉLITE O DIRETOR DO INPE E O MINISTRO DA CIÊNCIA E TECNOLOGIA, MARCOS PONTES. DO ESPAÇO, ELE VAI MANDAR O SINAL PARA TRÊS ESTAÇÕES DE MONITORAMENTO NO BRASIL: UMA EM CUIABÁ (MT), A OUTRA EM ALCÂNTARA (MA) E A TERCEIRA EM CACHOEIRA PAULISTA (SP). TODOS OS MOVIMENTOS DO SATÉLITE SERÃO COORDENADOS DE UMA OUTRA ESTAÇÃO, QUE FICA NO INPE. LANÇAMENTO ESTAVA COMPROMETIDO DEPOIS QUE INPE SUSPENDEU BOLSITAS DO PROJETO.

FONTE: <https://g1.globo.com/fantastico/noticia/2021/02/28/amazonia-1-primeiro-satelite-100percent-brasileiro-chega-ao-espaco-para-ser-vigilante-da-floresta.qhtml>



## TRABALHANDO COM O TEXTO

1) QUAL O TEMA DA NOTÍCIA?

---

---

2) VOCÊ JÁ TINHA OUVIDO FALAR EM SATÉLITE? SABE PARA QUE SERVE?

---

---

---

3) ONDE FOI FABRICADO O SATÉLITE CITADO NA NOTÍCIA?

---

---

4) A CIDADE DE SÃO JOSÉ DOS CAMPOS FAZ DIVISA COM JACAREÍ, QUAL ESTADO ELAS PERTENCEM?

---

---

5) O QUE VOCÊ COMPREENDE SOBRE O ESPAÇO? COMO VOCÊ O DESCRIVERIA?

---

---

---



6) COLOQUE AS PONTUAÇÕES CORRETAS, PARA DAR SENTIDO AS FRASES:  
**(EXCLAMAÇÃO ! , INTERROGAÇÃO ? , PONTO FINAL.)**

**PONTO-FINAL (.)**

É USADO AO FINAL DE FRASES, INDICA QUE A FRASE TERMINOU.

**PONTO DE INTERROGAÇÃO (?)**

O PONTO DE INTERROGAÇÃO É USADO PARA INDICAR QUE ESTÁ SE FAZENDO UMA PERGUNTA.

**PONTO DE EXCLAMAÇÃO (!)**

É USADO DEPOIS DE FRASES QUE EXPRESSEM SENTIMENTOS DISTINTOS, TAIS COMO: ENTUSIASMO, SURPRESA, SÚPLICA, ORDEM, HORROR, ESPANTO.

A) VOCÊ SABE QUAL HORÁRIO DO LANÇAMENTO DO FOGUETE AMAZONAS

\_\_\_\_\_

B) QUE BOM \_\_\_\_\_ DEU TUDO CERTO NO LANÇAMENTO DO FOGUETE \_\_\_\_\_

C) VOCÊ SABE ONDE FICA O INPE \_\_\_\_\_

D) MEU SONHO ERA SER CIENTISTA \_\_\_\_\_

E) VOCÊ SABIA \_\_\_\_\_ O INPE É UM ORGÃO DO GOVERNO QUE ESTUDA O

SITEMA ESPACIAL AQUI NO BRASIL \_\_\_\_\_

7) COMPLETE AS PALAVRAS COM **U** OU **L**:

BRASI\_\_

BO\_\_SAS

MA\_\_

SATÉ\_\_ITE

INSTIT\_\_TO

ATINGI\_\_

EQ\_\_IPAMENTO

SENEGA\_\_

PA\_\_

AFIRMO\_\_

M\_\_DANÇA

MINERA\_\_



8) LOCALIZE AS PALAVRAS NO CAÇA-PALAVRAS E DEPOIS AS ENCONTRE NO TEXTO E CIRCULE:

A	B	C	D	A	E	F	G	H	I
P	V	Z	E	M	R	H	S	F	N
T	A	C	Z	A	X	C	V	B	D
E	G	H	J	Z	K	Ç	M	N	I
R	Q	F	L	O	R	E	S	T	A
R	M	Q	W	N	E	R	T	Y	U
A	I	A	S	I	D	F	G	H	J
Y	N	T	R	A	E	W	Q	L	K
Z	U	W	S	X	E	I	N	P	E
A	T	Q	W	E	R	T	Y	U	I
F	O	G	U	E	T	E	K	P	O
D	S	A	S	D	R	F	G	H	I
V	A	W	E	D	C	F	S	A	Z
O	F	A	Y	B	R	A	S	I	L
L	R	X	H	H	T	O	P	L	N
T	G	E	S	P	A	Ç	O	J	K
A	B	D	T	J	O	F	H	J	M
S	Y	F	G	K	L	E	A	S	A

AMAZONIA – TERRA – FOGUETE – FLORESTA – INDIA – INPE  
VOLTAS – MINUTOS – ESPAÇO - BRASIL



9) SABENDO QUE O FUSO HORÁRIO DA INDIA EM RELAÇÃO AO BRASIL É DE 9 HORAS. SE O SATÉLITE FOI LANÇADO COM HORÁRIO DE 1 HORA DA MANHÃ AQUI NO BRASIL, QUAL ERA O HORÁRIO LÁ NA INDIA?

R: \_\_\_\_\_

10) PARA FAZER O FOGUETE AMAZONAS 1 O ENGENHEIRO RESPONSÁVEL PRECISOU COMPRAR:

MATERIAIS	QUANTIDADES
PARAFUSOS	150.000
PORCAS	134.000
ALUMINIO	60.123
RESINA	12.000
CERAMICA	67.000
FIBRA DE CARBONO	54.987
FIOS ELÉTRICOS	87.986

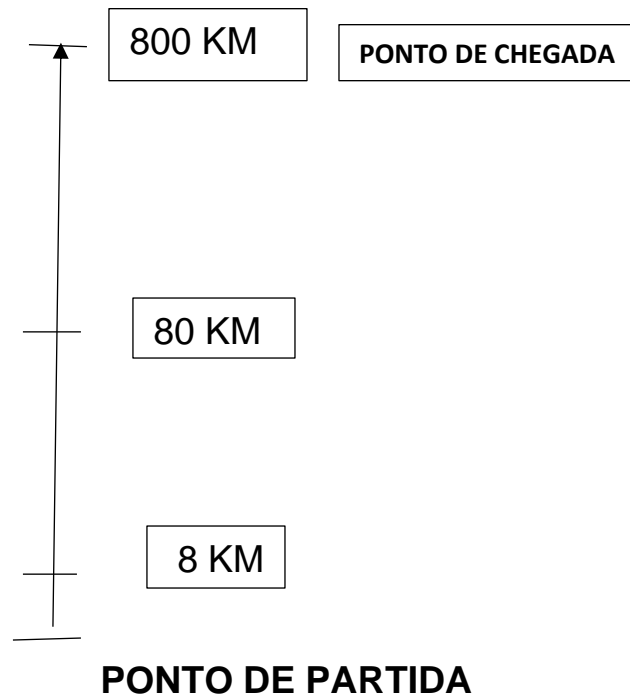
A) QUAL A QUANTIDADE DE ITENS COMPRADOS PARA A CONSTRUÇÃO DO FOGUETE?

RESPOSTA: \_\_\_\_\_



11) IMAGINE QUE O DESENHO ABAIXO REPRESENTA A DISTÂNCIA PERCORRIDA PELO FOGUETE:

TRAJETO DO FOGUETE



**LEMBRANDO:** O TRAJETO NEM SEMPRE É UMA LINHA RETA, DEPENDE DO PONTO DE PARTIDA, O CAMINHO ESCOLHIDO PARA PERCORRER, E DO PONTO DE CHEGADA.

A) OBSERVANDO O TRAJETO DO FOGUETE, DESENHE O TRAJETO QUE VOCÊ FAZ DA SUA CASA ATÉ A ESCOLA:





B) OBSERVANDO O ALGARISMO **8** DENTRO DOS NÚMEROS, MARQUE UM **X** NA ALTERNATIVA CORRETA:

( ) NÃO MUDOU NADA.

( ) O VALOR DO ALGARISMO **8** AUMENTOU DE ACORDO COM O SEU POSICIONAMENTO NO NÚMERO, AUMENTANDO TAMBÉM O VALOR DOS NÚMEROS QUE APARECEM NO TRAJETO.

C) FAÇA UM: **X** NO NÚMERO CORRESPONDENTE A ESCRITA POR EXTENSO:

OITENTA	8	80	800
---------	---	----	-----

OITO	8	80	800
------	---	----	-----

OITOCENTOS	8	80	800
------------	---	----	-----

C) OBSERVE OS NÚMEROS ESCRITOS, QUE FORAM GASTOS COM O SATÉLITE:

**134.000**

**60.123**

**54.897**

**12.000**

**87.986**

A) O MAIOR NÚMERO ESCRITO É:

R: \_\_\_\_\_

B) E O MENOR NÚMERO É:

R: \_\_\_\_\_

D) AGORA COLOQUE OS NÚMEROS EM ORDEM CRESCENTE: **(DO MENOR PARA O MAIOR):**

\_\_\_\_\_

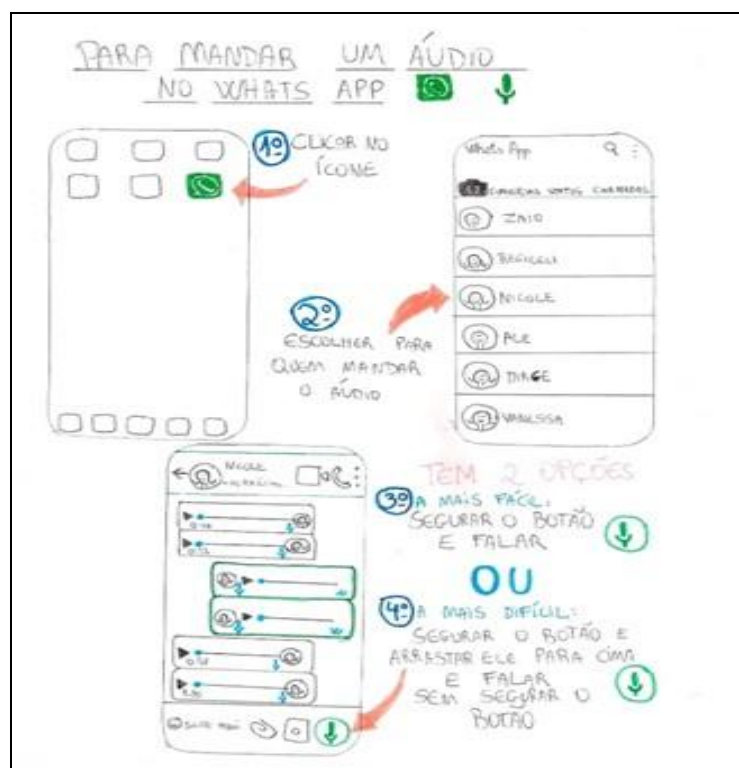


## JOVEM CRIA 'MANUAL CASEIRO' PARA AJUDAR IDOSA A USAR O WHATSAPP



PROVAVELMENTE VOCÊ JÁ PRECISOU DAR AQUELA AJUDINHA PARA PAIS, TIOS OU AVÓS QUE NÃO SÃO ASSIM TÃO LIGADOS EM TECNOLOGIA E PEDEM POR UMA FORCINHA PARA INTERAGIR NOS MEIOS DIGITAIS, NÃO É MESMO? POIS É, ALEXANDRE DRABECKI, DE 23 ANOS, FOI ALÉM: CRIOU SEU PRÓPRIO MANUAL CASEIRO PARA AUXILIAR A AVÓ DA NAMORADA, IRACEMA POLIQUEZI, DE 73 ANOS, A MEXER NO WHATSAPP PARA CELULAR.

“ATÉ RESPONDI A ALGUMAS DÚVIDAS DELA, NÃO TINHA MUITO CONTATO COM ELA, E ACABEI PERCEBENDO QUE A FAMÍLIA DA MINHA NAMORADA, ÀS VEZES, PERDIA A PACIÊNCIA POR TER QUE RESPONDER MUITAS VEZES AS MESMAS PERGUNTAS”, CONTA, EM ENTREVISTA AO UOL TECNOLOGIA.





SEGUNDO O RAPAZ, A IDEIA DO “MANUAL” NASCEU POR UMA QUESTÃO DE EMPATIA. IRACEMA, QUE ESTAVA USANDO SEU PRIMEIRO SMARTPHONE, MUITAS VEZES NÃO RESPONDIA AS MENSAGENS E ELE SE COLOCOU NO LUGAR DELA PARA ENTENDER SUAS DIFICULDADES EM USAR O APARELHO E O APLICATIVO. “ACHO QUE QUANDO PENSAMOS COM A NOSSA CABEÇA E A NOSSA EXPERIÊNCIA, NÃO CONSEGUIMOS VER QUE OS IDOSOS NÃO VIVEM A VIDA COMO NÓS. CONHECI A DONA IRACEMA E TIVE CERTEZA QUE A MELHOR FORMA DE ENSINAR ALGO PARA ELA ERA SER SIMPLES.”

### **“MANUAL” É MUITO DIDÁTICO E FAZ SUCESSO POR AÍ**

O “MANUAL CASEIRO” DE WHATSAPP É BEM DIDÁTICO, COM UM PASSO A PASSO ILUSTRADO E COM DIREITO A UMA LEGENDA COM OS ÍCONES UTILIZADOS NA PLATAFORMA — A EXEMPLO DAS SETINHAS AZUIS DE CONTEÚDO LIDO, DO BOTÃO PARA GRAVAR MENSAGENS, ENTRE OUTROS. AO APRESENTÁ-LO PARA DONA IRACEMA, A ACEITAÇÃO FOI IMEDIATA.

“ENQUANTO ESTAVA EXPLICANDO O MANUALZINHO, ELA FALAVA COISAS COMO ‘NOSSA, MAS AGORA EU ESTOU ENTENDENDO!’”, OU AINDA, “SÓ VOCÊ PARA TER PACIÊNCIA COMIGO”, CONTA DRABECKI, QUE VÊ A PUBLICAÇÃO SOBRE O ASSUNTO SOMAR MAIS DE 18 MIL COMPARTILHAMENTOS NO TWITTER. ELE NÃO ESPERAVA TAMANHA REPERCUSSÃO, MAS ATÉ PENSA EM AMPLIAR AS INSTRUÇÕES PARA WHATSAPP E “MAIS TARDE, PARA O FACEBOOK”.

<https://www.tecmundo.com.br/CLAUDIO YUGE>

### **ATIVIDADES:**

1- COM BASE EM SEUS CONHECIMENTOS E PELO QUE ACABAMOS DE LER NA NOTÍCIA ACIMA, PARA QUE SERVE UM MANUAL?

---

---

---



**LEMBRANDO:** OS VERBOS SÃO PALAVRAS QUE EXPRESSAM UMA AÇÃO.  
EXEMPLOS: FAZER, COMER, SENTIR....

**2-** AO OBSERVAR O DESENHO DO MANUAL, IDENTIFIQUE E COPIE APENAS OS VERBOS QUE APARECEM EM CADA UM DOS PASSOS A SEREM SEGUIDOS:

---

---

---

---

**3-** O QUE OS VERBOS ESCRITOS NA ATIVIDADE ANTERIOR TÊM EM COMUM?

---

---

---


**4-** QUAL A DIFERENÇA ENTRE A IDADE DO RAPAZ QUE CONSTRUIU O MANUAL E A VÓ DA NAMORADA DELE?

RESPOSTA: \_\_\_\_\_



5- SUPONDO QUE DONA IRACEMA MANDOU UM ÁUDIO PARA A NETA SOBRE TRÊS BOLOS QUE ELA DEIXOU EM CIMA DA MESA ANTES DE IR AO TRABALHO: “QUERIDA, OS BOLOS QUE ESTÃO EM CIMA DA MESA SÃO ENCOMENDAS, SERÃO ENTREGUES MAIS TARDE, BEIJOS”. A NETA OUVIU O ÁUDIO E NÃO MEXEU, MAS OBSERVOU QUE DOIS BOLOS TINHAM O MESMO TAMANHO E UM ERA MAIOR... OBSERVE A IMAGEM E RESPONDA:

\*ATIVIDADE ADAPTADA DO SITE NOVA ESCOLA\*



A) QUAL O PESO DO BOLO MAIOR? \_\_\_\_\_

B) E DE UM DOS BOLOS MENORES? \_\_\_\_\_

C) COMO VOCÊ CHEGOU NESSA CONCLUSÃO?

---

---

---

---

---

---





## IMPULSIONADO PELA PANDEMIA, CONSUMO CONSCIENTE GANHA ESPAÇO.



OPÇÃO CONSCIENTE POR MATERIAL TOTALMENTE ORGÂNICO - Uma nova forma de consumir está em ascensão - iStock/Getty Images

OS NOVOS HÁBITOS, IMPULSIONADOS PELA PANDEMIA, INSISTEM, ACELERARAM UMA ATITUDE CADA VEZ MAIS VISÍVEL NO SÉCULO XXI: O CONSUMO CONSCIENTE. “SERÁ QUE PRECISO MESMO DE TANTAS ROUPAS?”, COMEÇARAM A SE QUESTIONAR AS PESSOAS, TRABALHANDO DE BERMUDA E CHINELOS, REMOTAMENTE, EM CASA. OUTRAS TANTAS, DESEMPREGADAS OU COM A RENDA REDUZIDA, TIVERAM DE CONTER SUAS TENTAÇÕES E GASTAR APENAS O NECESSÁRIO. O MINIMALISMO ESTÁ SE CONSOLIDANDO ATÉ MESMO ENTRE FORNECEDORES — COM RECURSOS LIMITADOS, VENDER MUITO DEIXOU DE SER A META HEGEMÔNICA DAS EMPRESAS, COMO ERA NO PASSADO. NA DECISÃO DE COMPRA, A BUSCA DAS SOCIEDADES EVOLUÍDAS SERÁ AGORA POR EQUILÍBRIO ENTRE SATISFAÇÃO PESSOAL E COMPROMISSOS AMBIENTAIS, SOCIAIS E FINANCEIROS.

O BRASIL TAMBÉM VEM GANHANDO PROTAGONISMO NO CONSUMO CONSCIENTE. GRANDES REDES VAREJISTAS E PROCESSADORES DE PROTEÍNA ESTÃO TRABALHANDO PARA BANIR, ATÉ O FIM DESTA DÉCADA, A VENDA DE CARNE SUÍNA E DE OVOS DE GALINHAS ORIUNDOS DE ANIMAIS CRIADOS EM TORTURANTES CELAS DE GESTAÇÃO



E GAIOLAS. O BANCO DO BRASIL, UMA INSTITUIÇÃO FINANCEIRA BICENTENÁRIA E FUNDAMENTAL NO DESENVOLVIMENTO DO AGRONEGÓCIO, FOI CONSIDERADO A NONA EMPRESA MAIS SUSTENTÁVEL DO MUNDO, DE ACORDO COM O RANKING GLOBAL 100, DA CORPORATE KNIGHTS, EM RAZÃO DE SEUS INVESTIMENTOS EM ECONOMIA VERDE, REDUÇÃO DA EMISSÃO DE CARBONO E INCLUSÃO SOCIAL. CONSCIENTIZAR SIGNIFICA ADQUIRIR CONHECIMENTO: SABER O QUE SE ESTÁ FAZENDO. QUANDO A CONSCIÊNCIA AGREGA MORAL E ÉTICA, A SOCIEDADE MELHORA E É MAIS FELIZ.

FONTE: [HTTPS://OUTLINE.COM/YWAKRM](https://outline.com/YWAKRM)

ESTUDO DO TEXTO:

1) QUAL O ASSUNTO DO TEXTO?

---

---

---

2) QUAL PODERIA SER O TÍTULO DO TEXTO, OBSERVANDO SOMENTE A IMAGEM?

---

---

---

3) POR QUE O TÍTULO DE UMA NOTÍCIA É ESCRITO COM LETRAS DESTACADAS?

---

---

---





4) O QUE VOCÊ ENTENDEU SOBRE O TEXTO?

---

---

---

---

VAMOS EXERCITAR A GRAFIA EM VERBOS TERMINADOS EM AM/ÃO:

LEMBRANDO: **-ÃO EM VERBOS NO FUTURO - COMERÃO**

**-AM EM VERBOS NO PRESENTE E PASSADO – COMERAM**

1) COMPLETE AS FRASES ABAIXO COM VERBOS NO PASSADO OU NO FUTURO:

A) ONTEM OS HÁBITOS \_\_\_\_\_ O CONSUMO  
CONSCIENTE, AMANHÃ ELES \_\_\_\_\_ O CONSUMO  
CONSCIENTE. **(IMPULSIONAR)**

B) OS FUNCIONÁRIOS DO AGRONEGÓCIO \_\_\_\_\_ ONTEM, E  
AGORA SÓ \_\_\_\_\_ NOVAMENTE NO PRÓXIMO MÊS.  
**(RECEBER)**

C) OS FUNCIONÁRIOS \_\_\_\_\_ ONTEM EM CASA, E  
AMANHÃ \_\_\_\_\_ NO BANCO. **(TRABALHAR)**

D) ONTEM OS FORNECEDORES \_\_\_\_\_ O TRIGO, E AMANHÃ  
\_\_\_\_\_ A SOJA. **(ENTREGAR)**



2) ESCREVA UMA FRASE PARA CADA VERBO, OBSERVANDO SUAS TERMINAÇÕES:

A) ACELERARAM

---

---

B) ACELERARÃO

---

---

C) COMEÇARAM

---

---

D) COMEÇARÃO

---

---

3) DONA JOANA QUER PARTICIPAR DESSE CONSUMO CONSCIENTE, E PARA ISSO PRECISA IR ATÉ O BANCO PARA GERENCIAR SEUS NEGÓCIOS. SÓ QUE PRECISA ATRAVESSAR O RIO, E ESTÁ COM UM POUCO DE PRESSA. HÁ ALGUNS CAMINHOS POSSÍVEIS PELAS PEDRAS PARA QUE ELA CHEGUE ATÉ A OUTRA MARGEM. SIGA CALCULANDO MENTALMENTE A SEQUÊNCIA DOS PRODUTOS DAS TABUADAS DE 5,7 E 9 E RESOLVA OS ITENS ABAIXO:



<https://www.oabmt.org.br/artigo/432/orgulho-de-ser-mulher-e-advogada>



<https://www.seudinheiro.com/2020/empresas/despesa-de-grandes-bancos-com-provisoes-supera-o-lucro-no-trimestre/>  
<https://novaescola.org.br/plano-de-aula/767/calculo-mental-com-tabuada>

A) DESCUBRA TODOS OS CAMINHOS POSSÍVEIS PARA DONA JOANA CHEGAR DO OUTRO LADO DO RIO.

---

---

---

---

B) QUAL O NÚMERO DA PEDRA COM PONTO DE INTERROGAÇÃO? ENCONTRE O INTERVALO DA SEQUÊNCIA DA TABUADA PARA DESCOBRIR.

---



C) QUAL É A TABUADA QUE REPRESENTA O CAMINHO MAIS CURTO?

---

D) ESCREVA AS MULTIPLICAÇÕES QUE TEVE QUE FAZER PARA ENCONTRAR O CAMINHO MAIS CURTO.

---

---

---

E) E SE ELA OPTASSE PELO CAMINHO MAIS LONGO, QUE MULTIPLICAÇÕES TERIA QUE FAZER?

---

---

---

---